

CONCURSUL ȘCOLAR DE GEOGRAFIE
ETAPA NAȚIONALĂ, 16-21 APRILIE 2011, TIMIȘOARA
PROBA PRACTICĂ
CLASA A VIII-A

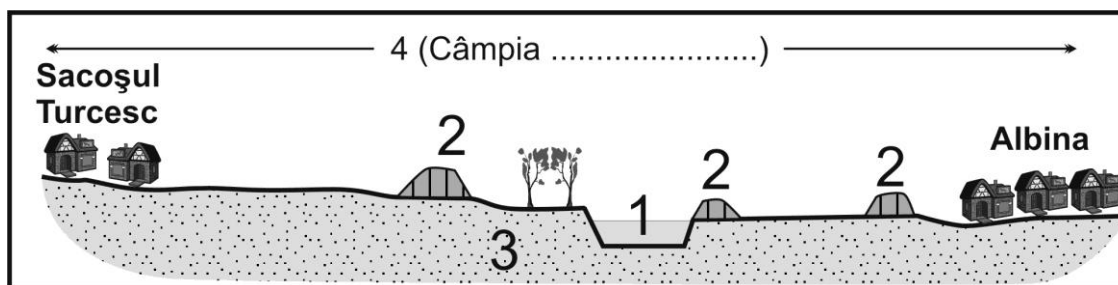
- Toate subiectele sunt obligatorii
- Se acordă 10 puncte din oficiu
- Timpul efectiv de lucru este de 90 minute

I. În județul Timiș sunt două tipuri de unități de câmpie din punct de vedere genetic și altimetric.

- Precizați cele două tipuri genetice de câmpii.
- Pentru fiecare tip de câmpie, menționați câte două exemple.

12 puncte

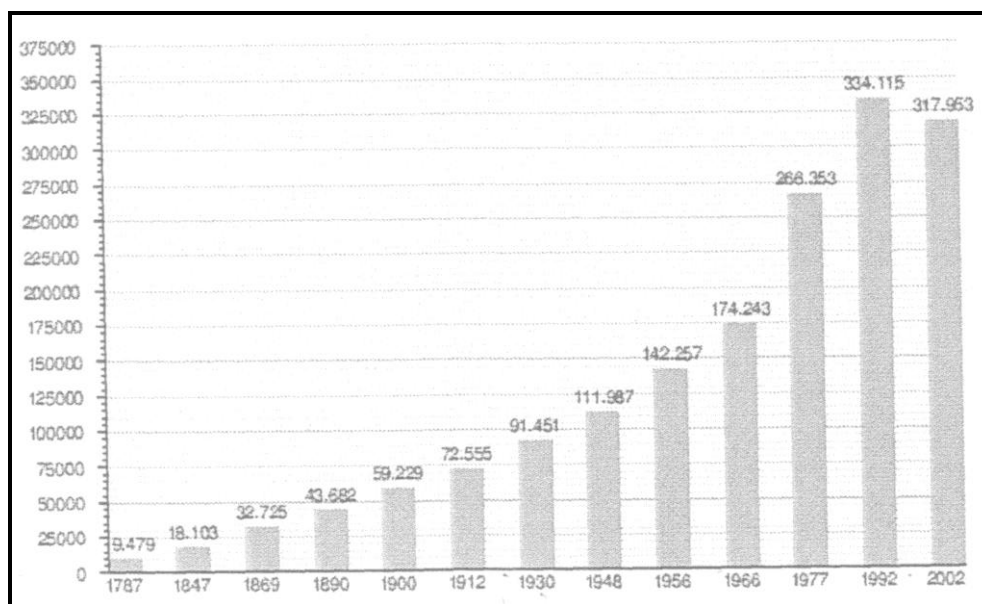
II. Precizați denumirea elementelor marcate, pe desenul de mai jos, cu cifre de la 1 la 4.



8 puncte

III. Reprezentarea grafică de mai jos prezintă evoluția numerică a populației municipiului Timișoara în perioada 1787 – 2002 (datele statistice sunt de la recensămintele din anii precizați pe grafic).

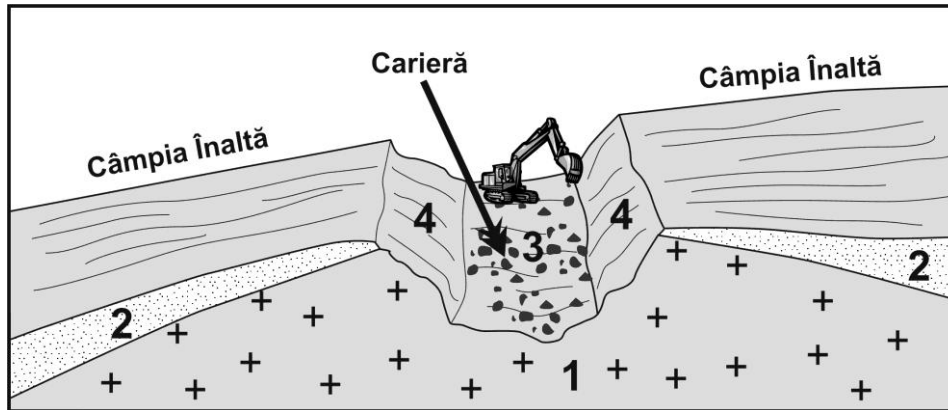
Explicați evoluția numerică a populației pentru perioadele: 1787 – 1912; 1912 – 1966; 1966 – 1992; după 1992..



32 puncte

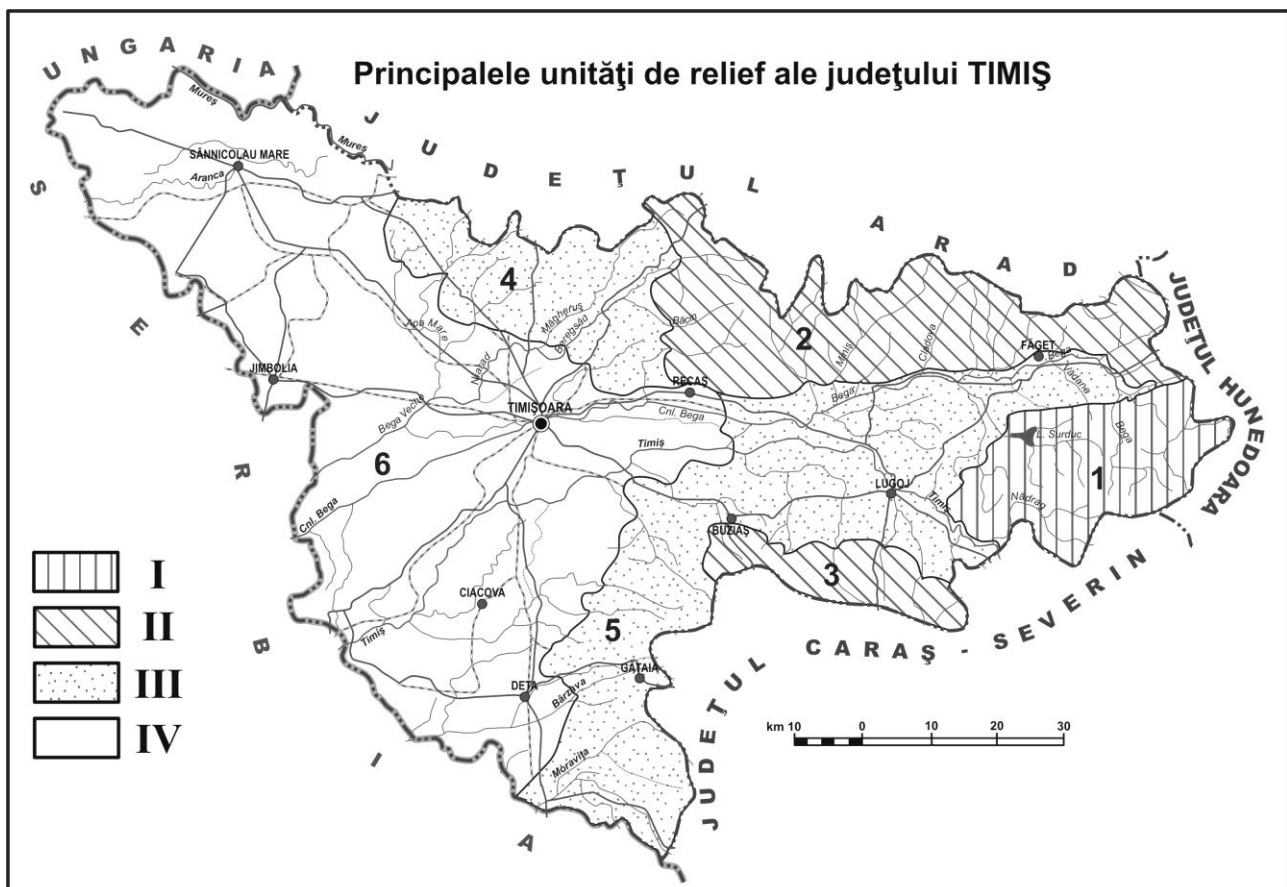
IV. Pentru cariera de la Lucareț precizați:

- localizarea geografică
- tipul de rocă exploatată (1) și cea acoperitoare (2)
- procesele care au loc pe versanți (4)
- utilizarea materialelor exploatate (3)



20 puncte

V. Precizați numele unităților de relief marcate, pe harta județului Timiș, cu cifre de la 1 la 6, precum și treptele de relief (I – IV)



18 puncte